

第一单元 克、千克、吨

综合测试题

(时间:80分 满分:100分)

一、填空。(26分)

- ()、()和()都是计量物品轻重的单位,每相邻两个单位之间的进率是()。
- 在()里填合适的单位。
 - 一小袋食盐重500()。
 - 一辆卡车载重10()。
 - 一个西瓜大约重4()。
 - 一名学生重32()。
- 在○里填“>”“<”或“=”。

9吨○9000kg 6900g○7kg 4001kg○4001g


8000g○8kg 10吨○9999kg 5kg○4950g

- 在()里填合适的数。

5kg=()g 8kg=()g ()吨=6000kg

2000g=()kg 7000kg=()吨 ()kg=5000g

- 连一连。



3kg

120kg

180g

50g


- 红光小学的食堂运来10吨煤,用去6000kg,还剩()吨,即()kg。

二、判断。(对的画“√”,错的画“×”。)(10分)

- 1辆小型货车载重2kg。 ()
- 1000g铁比1kg棉花重。 ()
- 小兰爸爸的体重大约为75g。 ()

- 超市货架上1袋牛肉干重90kg。 ()
- 1根火腿肠重50g。 ()

三、找座位(连线)。(6分)



四、将正确答案的字母填在()里。(10分)

- 下面最重的是(),最轻的是()。
 - 990kg
 - 8吨
 - 1000g
- 1枚1角硬币约重1()。
 - g
 - kg
 - 吨
- 2袋水泥重100()。
 - kg
 - g
 - 吨
- 称1支粉笔的重用()。
 - 天平
 - 台秤
 - 磅秤
- 小强的妈妈从超市买回1kg果冻,分给他和妹妹各一半,小强分得()。
 - 50g
 - 5g
 - 500g

五、按照从轻到重的顺序排一排。(8分)



200g



3kg



33kg



500g

() < () < () < ()

六、看一看，填一填。(10分)



200g



180g



500g



50g



5kg



150g

请用“重一些”“重得多”“轻一些”“轻得多”填空。



比




()。



比



()。



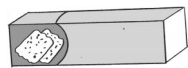
比



()。




比



()。



比




()。

七、问题解决。(30分)

1. 1头野牛的体重约800kg,1只河马的体重比野牛多200kg。

河马的体重是多少千克?合多少吨?

2. 1辆载重5吨的货车满载出发,途中卸货3吨,货车上还剩多少千克货物?



3. 利民超市运来2吨萝卜,上午卖出1200kg,下午全部卖完。下午卖出萝卜多少千克?

4. 比体重。

我的体重是28千克。



江川

我的体重是31千克。



王兰

我的体重是35千克。



李一

根据上面的信息,至少提出2个数学问题并解决。

(1) _____

(2) _____

线
订
装