

第一单元 万以内数的认识

综合测试题


(时间:40分)

一、计算。

$48-37=$	$43+7=$	$4 \times 7=$	$23+37=$
$42 \div 7=$	$95-80=$	$73+20=$	$83-9=$
$56-34=$	$23+55=$	$27 \div 3=$	$45 \div 5=$
$8 \times 7=$	$63 \div 7=$	$6 \times 7=$	$54 \div 9=$

二、填空。

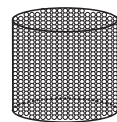
- ()个十是一百,10个一百是(),()个一千是一万。
- 由8个千和5个十组成的数写作()。
- 用1,0,5,8四个数字组成的四位数中,最大的是(),最小的是()。
- 用2个6、2个0组成的四位数中,1个零都不读的是(),只读1个零的是()或()。
- 帮小动物找邻居。



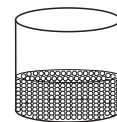
- 九百八十六是由()个百、()个十和()个一组成的。

- 一个数从右起第2位是()位,第5位是()位。
- 一个四位数的个位是5,千位是1,其余各位都是0,这个数是()。

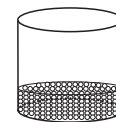
9.估一估。



大约200粒



大约()粒

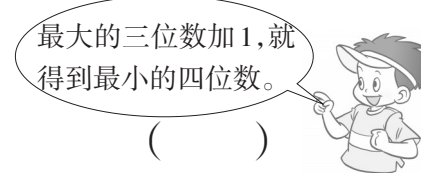


大约()粒

10.在○里填“>”或“<”。


$2002 \bigcirc 998$	$4765 \bigcirc 5021$	$769 \bigcirc 770$
$8986 \bigcirc 8968$	$10000 \bigcirc 9999$	$9000 \bigcirc 8888$

三、判断,对的画“√”,错的画“×”。


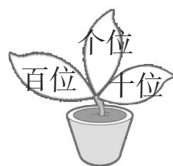


四、给正确答案的叶子涂上颜色。

- 一万里面有()个千。
- 读8100时()。



3. 一个四位数的右边第1位是()。 4. 6个百是()。



五、写出下面横线上的数。

1. 人的心跳通常每时四千八百次, 写作()次。
2. 珠穆朗玛峰的海拔高度大约是八千八百四十四米, 写作()米。
3. 重庆的常住人口约三千两百万人, 写作()万人。
4. 长江全长约六千三百千米, 写作()千米。

六、连一连, 涂一涂。

1. 连线找朋友, 把数量相同的小动物连起来。



6120



8051



五千零六



六千零七十



一万



八千零五十一



5006



六千一百二十



10000



6070

2. 把数量大于5000的小花涂成红色, 小于5000的小花涂成黄色。



5060



3010



6100



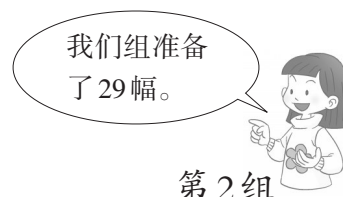
4008

七、问题解决。

1. 二(1)班举办书画展览共需要60幅画。



第1组



第2组

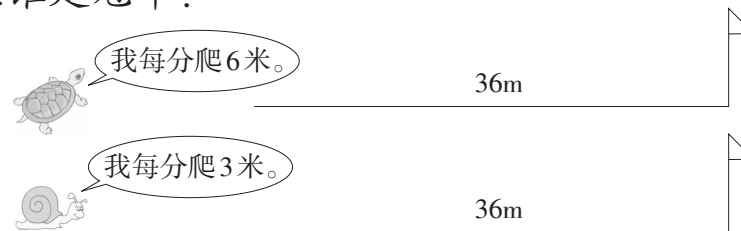
(1) 还差多少幅?

答: 还差()幅。

(2) 第1组比第2组少准备了多少幅?

答: 第1组比第2组少准备了()幅。

2. 谁是冠军?



(1) 小乌龟到达终点需要多少分?

(2) 小蜗牛到达终点需要多少分?

答: (1) 小乌龟到达终点需要()分。

(2) 小蜗牛到达终点需要()分。

冠军是()。