



# 四

## 100 以内的加法和减法(一)






## 整十数加、减整十数的口算

1 一共有多少支铅笔？



$$40 + 20 = \square \text{ (支)}$$



4个十加2个十, 等于6个十, 就是60。



还可以怎样计算？



$$4 + 2 = 6$$
$$40 + 20 = 60$$




2 还剩多少支铅笔？



$$60 - 10 = \square \text{ (支)}$$



6个十减去1个十，  
等于5个十，就是50。



$$6 - 1 = 5$$

$$60 - 10 = 50$$



我这样算……

试一试

$$50 + 30 = \square$$

$$90 - 40 = \square$$

3



有3盒，




有4盒。

黄色乒乓球比白色乒乓球多多少个？

$$40 - 30 = \square \text{ (个)}$$



黄色乒乓球比白色  
乒乓球多10个。




白色乒乓球比黄色  
乒乓球少10个。

试一试


酸奶比纯牛奶多( )盒。

纯牛奶比酸奶少( )盒。

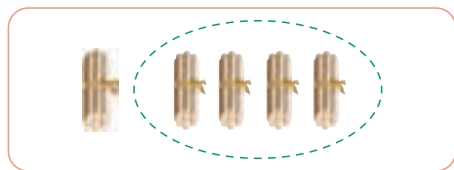


# 课 堂 活 动

1. 摆一摆,填一填。



$$10+40=\square$$



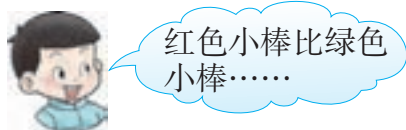
$$50-40=\square$$

2. 口算游戏。

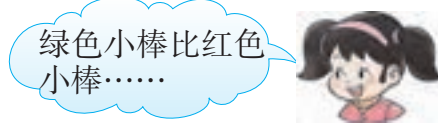


3. 填一填,说一说。

(1)

$$\square - \square = \square$$


(2)

$$\square - \square = \square$$


# 练 习 七

1. 算一算,想一想。

$3+4=$	$4+5=$	$8-3=$	$7-2=$
$30+40=$	$40+50=$	$80-30=$	$70-20=$

2. 口算。

$30+60=$

$20+50=$

$90-80=$

$80-40=$

$10+30=$

$30+30=$

$40-10=$

$70-30=$

$30+50=$

$10+20=$

$60-30=$

$50-20=$


3. 送信。(连线)

$90-60$

$70-40$

$40+40$

$70+20$



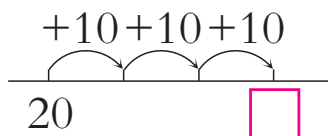
$80-30$

$80-10$

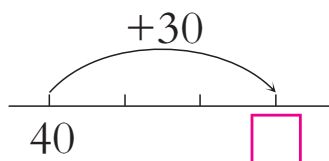
$90-10$

$10+80$

4. 看图填数。



$20+30=$



$40+30=$

5. 一共有多少枝花?



$\square \bigcirc \square = \square$  (枝)

6. 两家旅店一共可以住多少人?



红光旅店可住  
40人。



假日旅店可住  
50人。

$\square \bigcirc \square = \square$  (人)





7. 用50元钱买1箱矿泉水后还剩多少元?

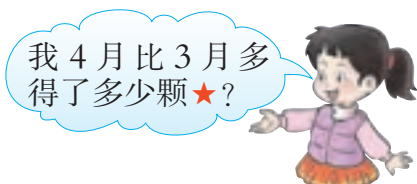


每箱20元

$$\square \bigcirc \square = \square \text{ (元)}$$

8. 王红3月、4月作业评比得★的颗数如下:

3月	4月
20颗	30颗



$$\square \bigcirc \square = \square \text{ (颗)}$$

王红

9. 看图写算式。



(1) 梨树比苹果树少多少棵?

$$\square \bigcirc \square = \square \text{ (棵)}$$

(2) 两种树一共有多少棵?


$$\square \bigcirc \square = \square \text{ (棵)}$$

10. 提出数学问题,并解决。




## 两位数加减整十数、一位数的口算

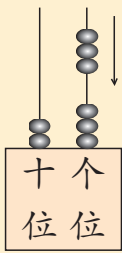
1 每盒有10个月饼，一共有多少个月饼？




$23+3=\square$  (个)



24, 25, 26。




十 个  
位 位




$3+3=6$   
 $20+6=26$

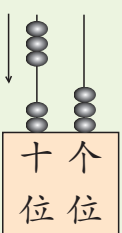
2 每盒有10个月饼，一共有多少个月饼？




$23+30=\square$  (个)



33, 43, 53。



十 个  
位 位



$20+30=50$   
 $50+3=53$

**议一议** 计算  $23+3$  与  $23+30$  有什么不同？

**试一试**  $35+4=\square$

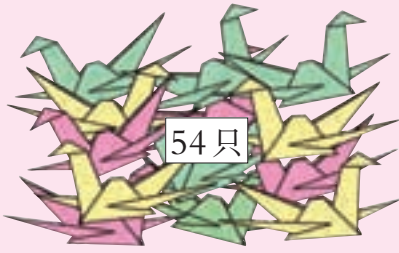
$52+3=\square$

$35+40=\square$

$52+30=\square$



### 3 小华折了多少只纸鹤?



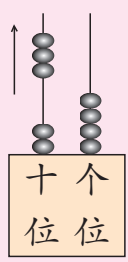
54只

30只是我折的，其余是小华折的。

54-30=□(只)

50-30=20  
20+4=24

还可以怎样算?




十 个  
位 位

**试一试**  $54-3=\square$


**议一议** 计算  $54-30$  与  $54-3$  有什么不同?

## 课 堂 活 动

1. 摆一摆,算一算。



$34+3=\square$



$34+30=\square$

2. 摆小棒,写算式。

先摆8捆零8根小棒,再拿走7捆小棒。

$\square \bigcirc \square = \square$

先摆8捆零8根小棒,再拿走7根小棒。

$\square \bigcirc \square = \square$

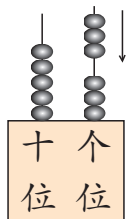
想一想:两次拿走的小棒表示的数有什么不同?



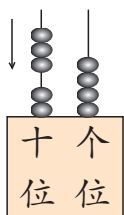


## 练 习 八

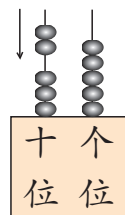
1. 看图填数。



$$53 + \square = \square$$



$$24 + \square = \square$$



$$35 + \square = \square$$

2. 计算。

$43 + 5 =$

$55 + 4 =$

$67 + 2 =$

$3 + 62 =$

$43 + 50 =$

$55 + 40 =$

$67 + 20 =$

$30 + 62 =$

3. 两个班一共有多少人?




一(1)班有40人。

一(2)班有35人。

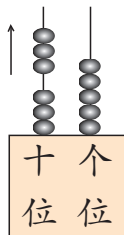


$$\square \bigcirc \square = \square \text{ (人)}$$

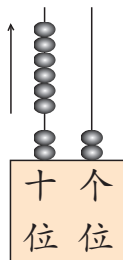
4. 采花蜜。(连线)



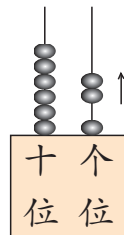
5. 看图填数。



$$65 - \square = \square$$



$$82 - \square = \square$$



$$63 - \square = \square$$

6. 计算。

$87 - 60 =$

$68 - 30 =$

$45 - 40 =$

$56 - 20 =$

$87 - 6 =$

$68 - 3 =$

$45 - 4 =$


$56 - 2 =$

7. 每张成人票比儿童票贵多少元?



$$\square \bigcirc \square = \square \text{ (元)}$$

8. 分苹果。(连线)



9. 白羊和黑羊一共有多少只?



$$\square \bigcirc \square = \square \text{ (只)}$$

你还能提出并解决哪些数学问题?



## 两位数加、减两位数

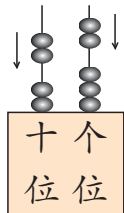
1 一共有多少人?



我们班上有男同学  
23人,女同学22人。

$$23 + 22 = \square \text{ (人)}$$

$$\begin{aligned} 20 + 20 &= 40 \\ 3 + 2 &= 5 \\ 40 + 5 &= 45 \end{aligned}$$



还可以用竖式算。

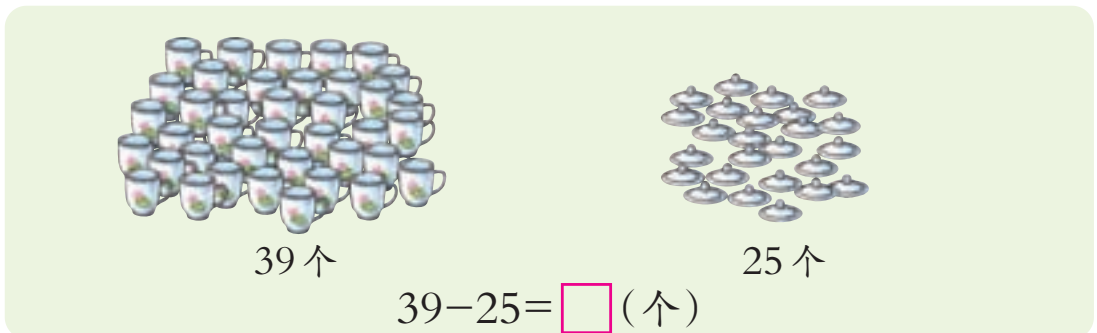
$$\begin{array}{r} 23 \\ + 22 \\ \hline 45 \end{array}$$



试一试  $37 + 21 = \square$

$43 + 42 = \square$

2 还差多少个茶杯盖?



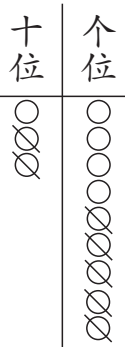
39个

25个

$$39 - 25 = \square \text{ (个)}$$



$$\begin{aligned} 30-20 &= 10 \\ 9-5 &= 4 \\ 10+4 &= 14 \end{aligned}$$



还可以用竖式计算。

$$\begin{array}{r} 39 \\ - 25 \\ \hline 14 \end{array}$$



试一试

$79-33=\square$

$97-26=\square$

计算加法、减法时,相同数位上的数要对齐。

3 小客车比大客车少多少个座位?

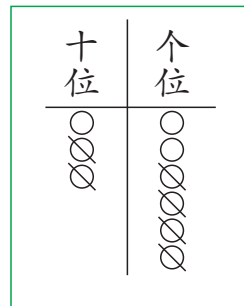
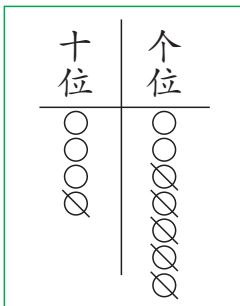




$45-23=\square(\text{个})$

你还能提出并解决哪些数学问题?

### 课堂活动

1. 摆一摆,算一算。



$24+12=\square$


$\square+\square=\square$

$47-\square=\square$

$\square-\square=\square$



## 2. 口算游戏。



## 3. 提出数学问题,并解决。



我有20颗牙齿。

小东

我的牙齿已经长到了22颗。



小红

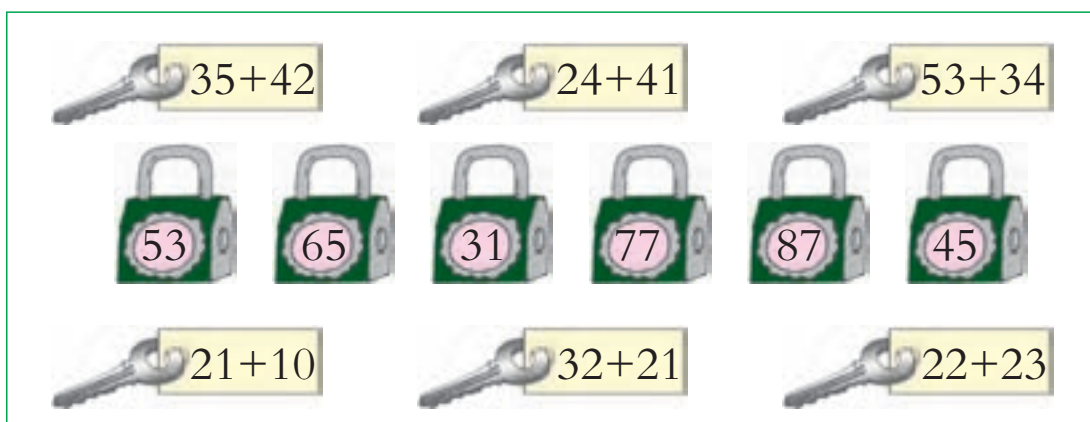
成人一般有32颗牙齿。



小丽

## 练习九

### 1. 开锁。(连线)



### 2. 计算。

$22+45=$

$65+23=$

$36+13=$

$37+32=$

$42+24=$

$53+22=$

$14+43=$

$25+52=$



3. 两个组一共有多少人?



航模组有 23 人。

美术组有 35 人。



$$\square \bigcirc \square = \square \text{ (人)}$$

4. 计算。

$45 - 24 =$

$57 - 34 =$

$84 - 60 =$

$68 - 23 =$

$38 - 16 =$

$78 - 45 =$

$89 - 35 =$

$75 - 54 =$

5.  比  多多少只?

$$\square \bigcirc \square = \square \text{ (只)}$$




68 只



43 只

6. 小动物回家。(连线)



7. 计算。

$$\begin{array}{r} 23 \\ + 45 \\ \hline \end{array}$$

$$\begin{array}{r} 46 \\ + 13 \\ \hline \end{array}$$

$$\begin{array}{r} 69 \\ - 37 \\ \hline \end{array}$$

$$\begin{array}{r} 85 \\ - 81 \\ \hline \end{array}$$







8. 已经检查了视力的同学有多少人?



$$\square \bigcirc \square = \square \text{ (人)}$$

9. 比一比。

		
15年	36年	20年

(1)  的寿命比  的短多少年?  $\square \bigcirc \square = \square \text{ (年)}$

(2)  的寿命比  的长多少年?  $\square \bigcirc \square = \square \text{ (年)}$

10. 买玩具。



(1)  比  贵多少元?

$$\square \bigcirc \square = \square \text{ (元)}$$

(2)  和  一共要多少元?

$$\square \bigcirc \square = \square \text{ (元)}$$



## 整理与复习



1. 口算下面各题,并说一说你是怎样算的。

$50+20=$	$46+3=$	$78-50=$	$32+43=$
$70-20=$	$46+30=$	$78-5=$	$58-26=$

2. 先用竖式计算,再说一说计算时应注意什么。

$25+32=$	$40+27=$	$78-43=$
----------	----------	----------

3. 提出数学问题,并解决。



46只



32只



21只

$$\square \bigcirc \square = \square \text{ (只)}$$

### 练习十

1. 口算。

$65+3=$	$78-7=$	$46+32=$	$34+23=$
$65+30=$	$78-70=$	$46-32=$	$34-23=$



2. 说出两个数的和与差。



3. 计算。

$23+45=$

$43+35=$

$20+70=$

$93-60=$


$78-26=$

$70-30=$







$85-4=$

$62+5=$

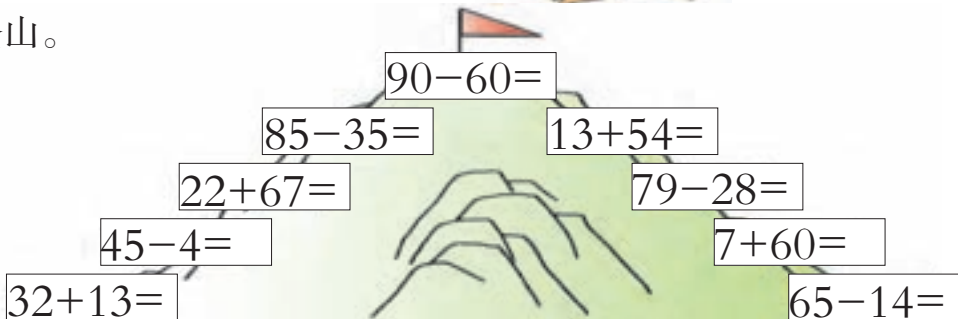
4. 下列计算对吗？把错误的改正过来。



5. 小袋鼠找妈妈。(连线)



6. 登山。



7. 填一填。

加数	30	25	48	63	23
加数	40	50	11	6	62
和					
被减数	70	83	29	54	79
减数	60	50	7	13	52
差					

8. 鹅比鸭多多少只?



$$\square \bigcirc \square = \square \text{ (只)}$$

9. 买体育用品。



54元



32元



40元

(1) 篮球和足球一共要多少元?

$$\square \bigcirc \square = \square \text{ (元)}$$

(2) 篮球比排球贵多少元?

$$\square \bigcirc \square = \square \text{ (元)}$$



把 20, 30, 50, 60 填在圆圈里, 使每条线上 3 个数的和都相等。

